

LKPD SISTEM PEREDARAN DARAH MANUSIA

Nama :

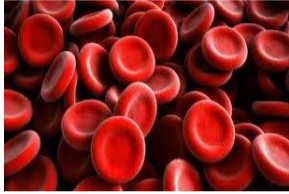
Kelas :

1. Pasangkanlah gambar berikut dengan tepat !



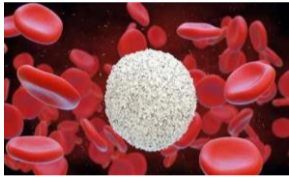
Sel darah merah

Mengedarkan sari-sari makanan dan sisa metabolisme



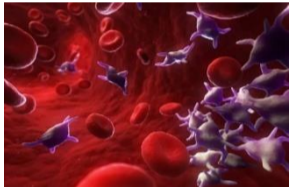
Keping darah

Membawa Oksigen dan Karbondioksida ke seluruh tubuh



Plasma darah

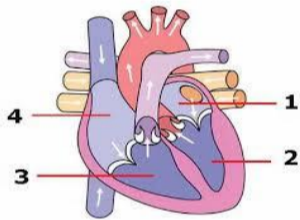
Membantu tubuh melawan berbagai penyakit infeksi



Sel darah putih

Pembekuan darah

2. Berikanlah keterangan pada gambar jantung berikut!



Fungsi jantung adalah

3. Pembuluh darah terdiri dari :


- 1.....
- 2.....
- 3.....

Pembuluh darah berfungsi

4. a. Peredaran darah besar :



b. Peredaran darah kecil



5. Sebutkan 3 kelainan/penyakit pada sistem peredaran darah manusia

- 1.....
- 2.....
- 3.....